


## ZADANIA INTERAKTYWNE

### MODUŁ IV: Grupy organizmów zamieszkujące Morze Bałtyckie


**IV.10. Organizmy żyjące w Bałtyku. Jak nazywa się przedstawione na ilustracji zwierzę? Odwróć kartę i sprawdź odpowiedź.**

<https://wordwall.net/pl/resource/28149175/edukacja-morska/iv1o-organizmy-zyjace-w-baltyku-jak-nazywa-sie>



**IV.20. Organizmy żyjące w Bałtyku. Dobierz nazwę rodzajową do organizmu przedstawionego na ilustracji.**

<https://wordwall.net/pl/resource/32795619/edukacja-morska/iv2o-organizmy-zyjace-w-baltyku-dobierz-nazwe>



## ZADANIA INTERAKTYWNE

### MODUŁ IV: Grupy organizmów zamieszkujące Morze Bałtyckie

#### IV.1R. Ryby Bałtyku. Dopasuj nazwę rodzajową do ryby przedstawionej na ilustracji.

<https://wordwall.net/pl/resource/30739058/iv1r-ryby-bałtyku-dopasuj-nazwę-rodzajową-do-ryby>

0:01 ✓0

okoń

A	B	C	D
			

☰ ◀ 1 z 10 ▶ 🔊



#### IV.2R. Ryby Bałtyku. Połącz elementy budowy ciała ryby z ich funkcją.

<https://wordwall.net/pl/resource/28125952/edukacja-morska/iv2r-ryby-bałtyku-połącz-elementy-budowy-ciała>

0:02

linia naboczna	pęcherz pławny	ochronna barwa
skóra z łuskami	pletwy	opływowy kształt ciała

Zmniejsza tarcie i zabezpiecza ciało przed zranieniem.

Pozwala wyczuwać wszelkie zmiany kierunku i siły prądu wody.

Zapewnia przemieszczanie się ryby na różne głębokości.

Ułatwia pokonywanie oporu wody.

Są narządami ruchu.

Ciemniejszy grzbiet, a jaśniejszy brzuch - sprawia, że ryba zlewa się z tłem i jest mało widoczna.

☰ Prześlij odpowiedzi 🔊



#### IV.3R. Ryby Bałtyku. Dopasuj do rysunku elementy budowy ciała ryby.

<https://wordwall.net/pl/resource/28125591/iv3r-ryby-baltyku-dopasuj-do-rysunku-elementy-budowy-ciala>

0:01



0:00



## ZADANIA INTERAKTYWNE

### MODUŁ IV: Grupy organizmów zamieszkujące Morze Bałtyckie


**IV.1P. Ptaki wodne Bałtyku. Sprawdź swoją wiedzę. Wskaż, które stwierdzenie jest prawdziwe, a które fałszywe.**

<https://wordwall.net/pl/resource/29540476/edukacja-morska/iv1p-ptaki-wodne-baltyku-sprawdz-swoja-wiedze>

0:23 ✓ 0

Okres lęgowy przypada na wiosnę i lato - wtedy ptaki odbywają lęgi.

Prawda  Fałsz





**IV.2P. Ptaki wodne Bałtyku. Ptasi dziób, a sposób odżywiania. Połącz nazwę ptaka z właściwym opisem.**

<https://wordwall.net/pl/resource/29540721/edukacja-morska/iv2p-ptaki-wodne-baltyku-ptasi-dziob-a-sposob>

0:02

	<input type="text"/>	Zywi się głównie małżami, za którymi nurkuje do samego dna, ma krótki silny dziób o zaokrąglonym końcu.
	<input type="text"/>	Zdobywa pokarm (bezkręgowce) na brzegu, wśród wyrzuconych przez fale glonów.
	<input type="text"/>	Może żerować na polach, zjadając znajdujące tam bezkręgowce, żywi się odpadkami rybnymi w portach rybackich, w poszukiwaniu pożywienia nieobce jest jej również odwiedzanie wysypisk śmieci.
	<input type="text"/>	Zdobywa pokarm roślinny, wkładając głowę i szyję pod wodę, przekręcając przy tym kuper do góry.
	<input type="text"/>	Pokuje na drobne ryby, które lokalizuje z powietrza, lecąc nad wodę, po czym z impetem wpada do wody i chwytając rybę.
	<input type="text"/>	Ma długi wąski dziób, którego koniec jest zakończony haczykiem, co ułatwia trzymanie w dziobie schwytej śliskiej ryby.





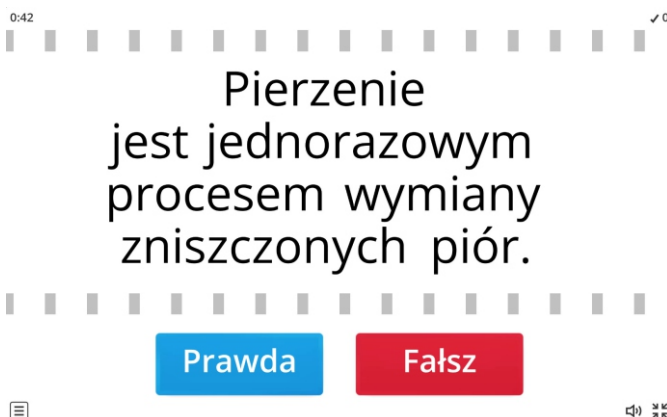
#### IV.3P. Ptaki wodne Bałtyku. Wykreślanka – znajdź nazwy ptaków.

<https://wordwall.net/pl/resource/28377959/edukacja-morska/iv3p-ptaki-wodne-baltyku-wykreślanka-znajdź>



#### IV.4P. Ptaki wodne Bałtyku. Wskaż, które stwierdzenie jest prawdziwe, a które fałszywe.

<https://wordwall.net/pl/resource/29540976/iv4p-ptaki-wodne-baltyku-wskaż-które-stwierdzenie-jest>



## ZADANIA INTERAKTYWNE

### MODUŁ IV: Grupy organizmów zamieszkujące Morze Bałtyckie

#### IV.1S. Ssaki Bałtyku. Połącz nazwę gatunkową zwierzęcia z właściwą ilustracją.

<https://wordwall.net/pl/resource/28127138/edukacja-morska/iv1s-ssaki-baltyku-polacz-nazwe-gatunkowa>

0:01

foka pospolita

foka obrączkowana

morświn

foka szara

Prześlij odpowiedzi



#### IV.2S. Ssaki Bałtyku. Poznajemy bałtyckie foki. Wybierz prawidłową odpowiedź.

<https://wordwall.net/pl/resource/28281570/edukacja-morska/iv2s-ssaki-baltyku-poznajemy-baltyckie-foki>

0:03

Ubarwienie ciała ciemne z jasnymi kolistymi pierścieniami należy do

A foki szarej

B foki pospolitej

C foki obrączkowanej

1 z 7



**IV.3S. Ssaki Bałtyku. Poznajemy bałtyckie foki. Wybierz prawidłową odpowiedź.**

<https://wordwall.net/pl/resource/30251579/edukacja-morska/iv3s-ssaki-baltyku-poznajemy-baltyckie-foki>

0:01 ✓0

Foki posiadają kończyny przekształcone w płetwy.



A Prawda  
B Fałsz

1 z 7



**IV.4S. Ssaki Bałtyku. Wskaż, które stwierdzenie jest fałszywe, a które prawdziwe.**

<https://wordwall.net/pl/resource/28127373/edukacja-morska/iv4s-ssaki-baltyku-wskaz-ktore-stwierdzenie>

0:33 ✓0

U morświnów  
płetwa  
grzbietowa ma  
kształt trójkąta.

Prawda Fałsz



#### IV.5S. Ssaki Bałtyku. Zaznacz poprawną odpowiedź.

<https://wordwall.net/pl/resource/29541136/iv5s-ssaki-baltyku-zaznacz-poprawna-odpowiedz>

0:02 ✓0

Ubarwienie ciała ciemne z jasnymi kolistymi pierścieniami dotyczy foki .....

A szarej      B pospolitej      C obrączkowanej

☰ < 1 z 6 > 🔊 🔇

